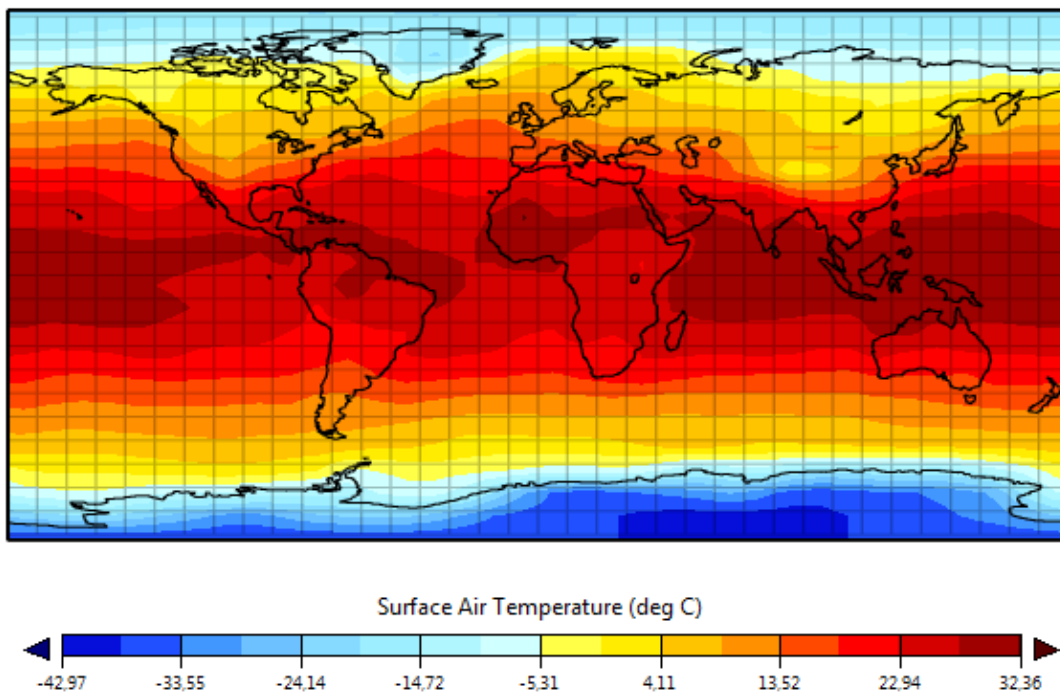


👉 A l'aide des documents suivants et en comparant avec la carte de la population mondiale, construis un tableau avec les facteurs favorables et les facteurs défavorables au peuplement.

Document 1 : les reliefs mondiaux



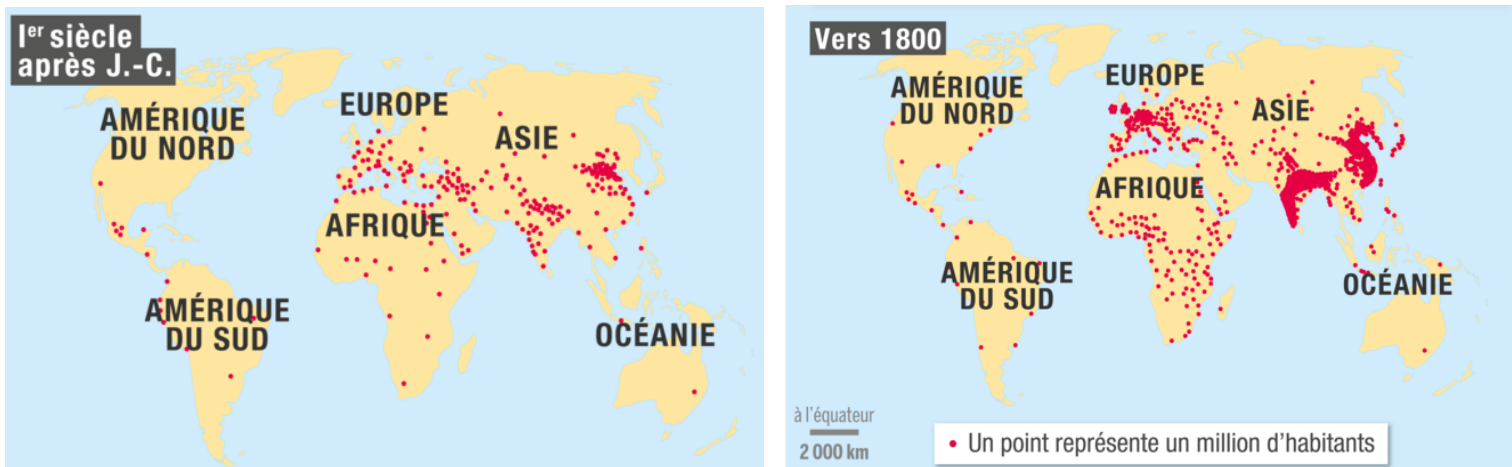
Document 2 : les températures moyennes à la surface de la Terre



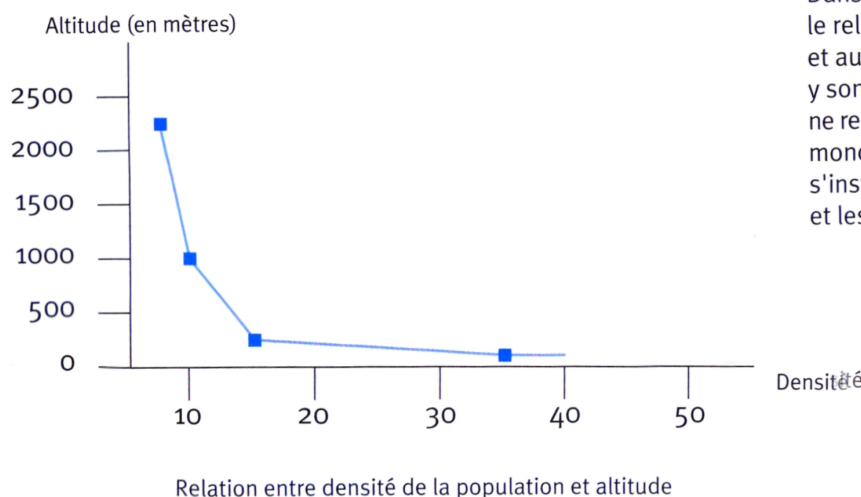
Document 3 : Les précipitations moyennes annuelles et les grands fleuves



Document 4 : Les peuplements et l'histoire des sociétés



Document 5 : Le peuplement et le relief



Dans le milieu montagnard, le relief fait obstacle à l'agriculture et aux transports. Les hommes y sont peu nombreux. Les montagnes ne regroupent que 10% de la population mondiale. Les hommes préfèrent s'installer dans les plaines et les vallées fluviales.

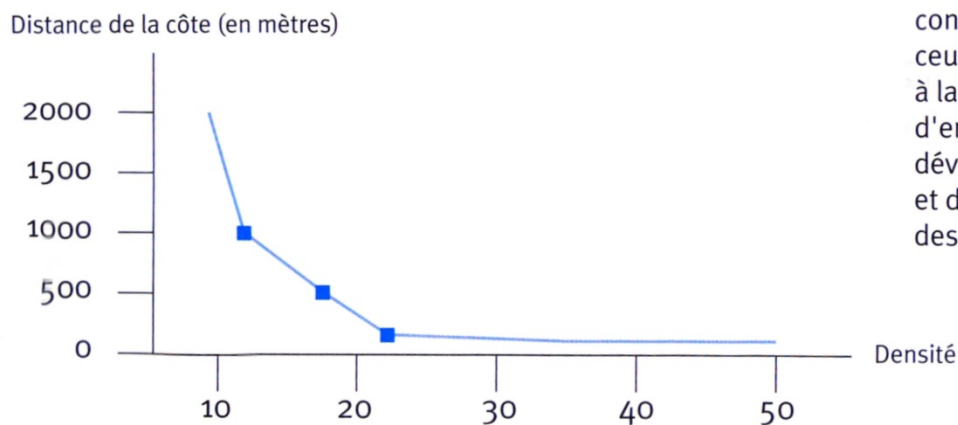
Document 6 : le peuplement et le climat

Le froid est redoutable pour l'homme. La principale difficulté est moins le risque de gel de certaines parties du corps que la disparition de la végétation pendant de longs mois. En fait, la limite du peuplement correspond à la limite de l'agriculture.

La chaleur humide a souvent été considérée comme un autre obstacle pour l'homme : de fait, le milieu tropical pluvieux est difficile en raison de l'exubérance de la forêt, de la pauvreté des sols et de la fréquence de certaines maladies. Cependant, le milieu chaud et humide n'empêche pas l'agriculture à condition d'utiliser des techniques appropriées et de choisir des plantes adaptées au climat.

D'après D.Noin, *Géographie de la population*, Armand Colin, Paris, 2002.

Document 7 : le peuplement et le littoral



Relation entre densité de la population et distance à la côte

Les hommes sont de plus en plus concentrés sur les littoraux : ceux-ci permettent de se nourrir grâce à la pêche et offrent souvent plus d'emplois, car c'est là que se développent les grands ports et des villes géantes. L'intérieur des terres est moins peuplé.

Documents 8 et 9 : Des lieux hostiles mais pourtant peuplés

