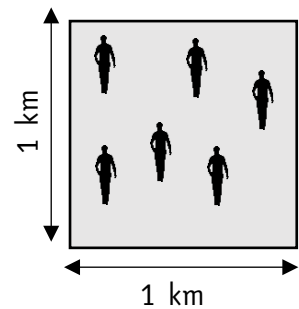




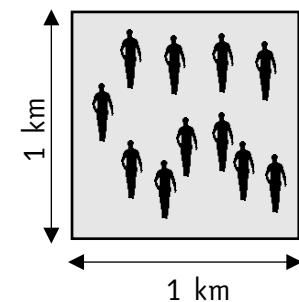
# ACTIVITÉS - LA DENSITÉ DE POPULATION

## Activité 1

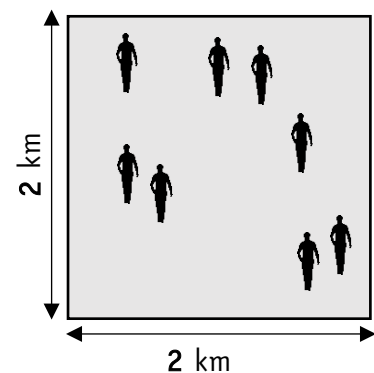
👉 Quelle est la densité de population de ces espaces ?



La densité de population de cet espace est de ..... habitants par km<sup>2</sup>



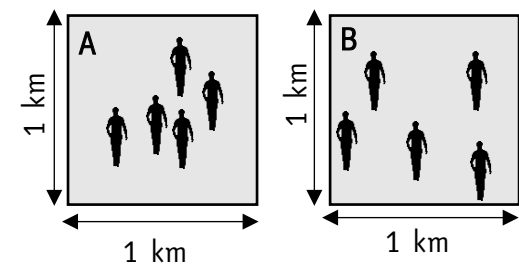
La densité de population de cet espace est de .....



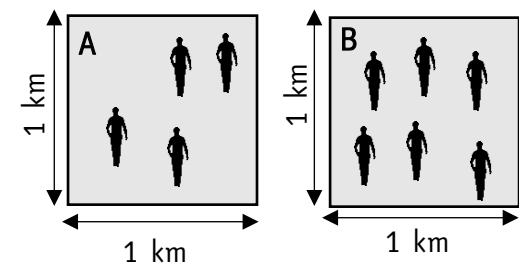
La densité de population de cet espace est de .....

## Activité 2

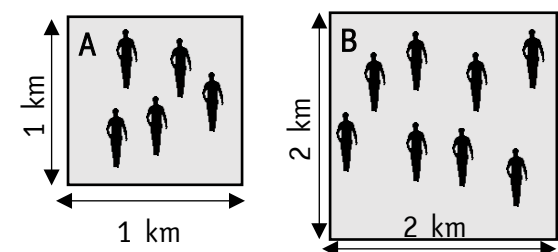
👉 Coche l'affirmation vraie.



- L'espace A a une **plus forte densité** que l'espace B.
- L'espace B a une **plus forte densité** que l'espace A.
- Les 2 espaces ont la **même densité**.



- L'espace A a une **plus forte densité** que l'espace B.
- L'espace B a une **plus forte densité** que l'espace A.
- Les 2 espaces ont la **même densité**.



- L'espace A a une **plus forte densité** que l'espace B.
- L'espace B a une **plus forte densité** que l'espace A.
- Les 2 espaces ont la **même densité**.