



Un martien (1) – B. Friot

Planète Mars, neuf heures du soir.

Cher papa, chère maman,

Eh oui, me voici sur la planète Mars. J'espère que vous vous êtes bien inquiétés depuis ce matin et que vous m'avez cherché partout. D'ailleurs, je vous ai observés grâce à mes satellites espions et j'ai bien vu que vous faisiez une drôle de tête cet après-midi. Même que papa a dit : « Ce n'est pas possible, il a dû lui arriver quelque chose ! » (Comme vous le voyez, mes micros longue distance sont ultra-puissants.)

Eh bien, j'ai un peu honte de le dire, mais je le dis quand même, parce que c'est la vérité : je suis rudement content que vous vous fassiez du souci. C'est de votre faute, après tout. Si vous ne m'aviez pas interdit d'aller au cinéma avec François, je ne serais pas parti. J'en ai marre d'être traité comme un gamin ! D'accord, je n'aurais pas dû vous traiter de vieux sadiques ; mais maman m'a bien traité de gros mollasson, alors on est quittes.

Ne me demandez pas comment je suis arrivé ici, c'est un secret et j'ai juré de ne pas le dire. En tout cas, je me plais bien sur Mars. Les gens ne sont peut-être pas très agréables à regarder, mais ils sont super-sympas.

👂 Lis le texte 3 fois à haute voix et chronomètre-toi.

👉 Écris les temps réalisés :

👉 Quel est le genre de ce texte ?

- un article de journal un poème une lettre

👉 Où se trouve le jeune garçon ?

.....

👉 Pourquoi est-il parti ?

.....

👉 Trouve dans le texte le contraire des mots suivants.

autorisé ➡

dynamique ➡

désagréable ➡



👉 Le compte est bon !

Utilise chaque nombre une fois et les signes + et - et x .

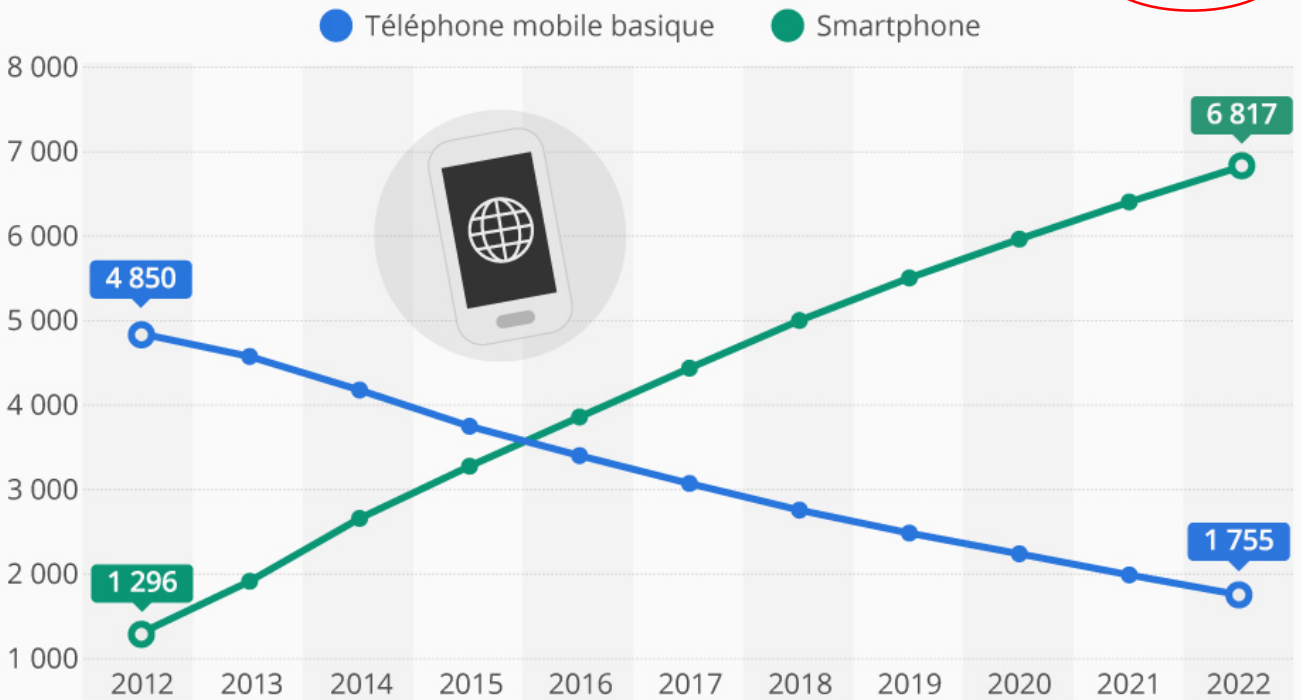
2 3 4 50 pour faire 500

.....

👁️ Observe le graphique et réponds aux questions.

La lente disparition du portable sans internet

Nombre d'abonnements à des téléphones mobiles basiques et smartphones en millions



CC BY ND @Statista_FR Dernières données disponibles : novembre 2016 Source : Ericsson



👉 Combien y a t-il de téléphones portables avec Internet aujourd'hui dans le monde ?

.....

👉 Combien y avait-il de téléphones portables avec Internet en 2012 ?

.....

👉 Combien y aura t-il de téléphones portables sans Internet en 2022 ?

.....

👉 En quelle année y a t-il eu plus de téléphones avec que sans Internet ?



Un martien (2) – B. Friot

Personne ne fait des réflexions quand vous avez le malheur d'avoir un 9 en géographie. Vous voyez à qui je fais allusion...

Il y a quand même des choses un peu bizarres. Je ne parle pas des scarabées que les Martiens grignotent à l'apéritif. Sur Terre aussi, il y a des trucs impossibles à manger. Les choux de Bruxelles, par exemple. Non, le plus tordu, c'est la façon dont on fait des bébés. Il suffit qu'un garçon et une fille se regardent dans les yeux, et hop ! ils deviennent papa-maman. J'ai déjà une demi-douzaine d'enfants. Je crois que je vais mettre des lunettes de soleil. C'est plus prudent.

J'ai encore des tas de choses à vous raconter, mais je préfère m'arrêter là. Portez-vous bien et à bientôt, j'espère.

Félicien


P.-S. : Vous seriez gentils de m'envoyer deux sandwiches au saucisson, un yaourt à la fraise et une bouteille de jus de raisin. Et dites-moi si vous êtes encore fâchés.

P.P.-S. : Vous n'avez qu'à laisser le colis et la lettre devant la porte du grenier. Ne vous inquiétez pas, ça arrivera.

 Lis le texte 3 fois à haute voix et chronomètre-toi.

 Écris les temps réalisés :

 Comment s'appelle le petit garçon ?

 Pourquoi dit-il qu'il doit porter des lunettes de soleil ?

.....

.....

 Où se trouve-t-il réellement ? Comment le sais-tu ?

.....

.....

 Réécris cette phrase en remplaçant « je » par « nous ».

J'ai encore des tas de choses à vous raconter, mais je préfère m'arrêter là.

.....

.....



MATHS

👉 Le compte est bon !

Utilise chaque nombre une fois et les signes + et - et x .

3 5 3 2 pour faire 75

.....

👉 Effectue les calculs suivants.

$27,1 + 139$

$710 - 84,9$

37×7

127×23

👉 Convertis les mesures suivantes.

$3 \text{ kg} \Rightarrow \dots\dots\dots \text{ cg}$

$49 \text{ dag} \Rightarrow \dots\dots\dots \text{ cg}$

$17 \text{ hg} \Rightarrow \dots\dots\dots \text{ g}$

$45 \text{ dg} \Rightarrow \dots\dots\dots \text{ mg}$

$37 \text{ cg} \Rightarrow \dots\dots\dots \text{ g}$

$9 \text{ dg} \Rightarrow \dots\dots\dots \text{ hg}$

$300 \text{ g} \Rightarrow \dots\dots\dots \text{ hg}$

$128 \text{ mg} \Rightarrow \dots\dots\dots \text{ dag}$

$27 \text{ cg} \Rightarrow \dots\dots\dots \text{ g}$

👉 Trace un carré ABCD de 6cm de côté. Place un point S situé à 4 cm du point A et à 4cm du point B.

Comment s'appelle la figure ASB ?



Silence (1) – B. Friot

La maîtresse a hurlé :

– Silence ! Taisez-vous ! Exercice 6, page 23 ! Silence, j’ai dit ! SILENCE !

J’ai compté : c’était la quarante- septième fois qu’elle hurlait aujourd’hui. Et j’ai pensé : « Si elle continue, elle va me transpercer la tête, je le sens, ça va éclater comme une fusée. » On s’est tous mis à écrire dans nos cahiers. On osait à peine respirer ; je crois bien qu’on allait étouffer. Et puis, Marie a laissé tomber sa gomme.

– SILENCE ! a hurlé la maîtresse. Taisez-vous et travaillez !

Alors, moi, je me suis levé et j’ai respiré autant que j’ai pu. J’ai regardé la maîtresse et j’ai hurlé :

– SILENCE ! Taisez-vous et laissez-nous travailler !

Lis le texte 3 fois à haute voix et chronomètre-toi.

Écris les temps réalisés :

Qu’est-ce qui agace les élèves chez leur maîtresse ?

.....

Pourquoi le narrateur hurle-t-il silence ?

.....

.....

Trouve dans le texte :

- 3 déterminants :

- 3 noms :

- 3 pronoms :

Conjugue le verbe « se lever » au passé composé. Pour t’aider : <https://huit.re/aidepc>

je nous

tu vous

il/elle ils/elles.....



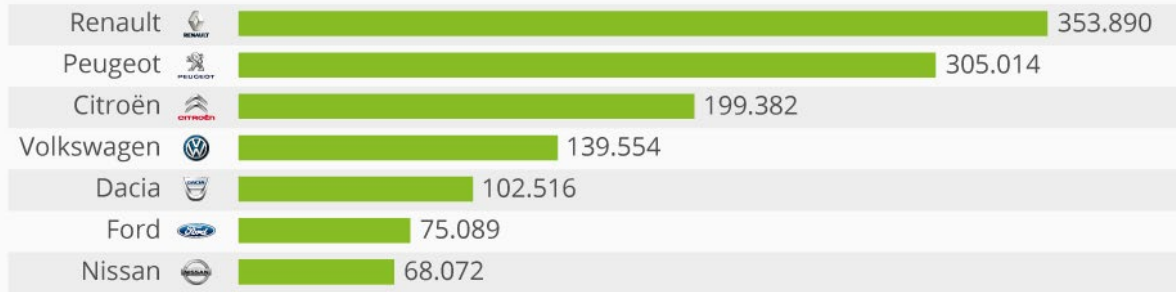
MATHS

✎ Écris les nombres en chiffres comme dans l'exemple.

30,04	trente et quatre centièmes
.....	cinq et quatre millièmes
.....	trente-six et soixante-neuf centièmes
.....	soixante-dix-sept et treize millièmes
.....	cent-vingt-neuf et quatre dixièmes

Le top 6 des marques de voitures les plus vendues en France

Nombre d'immatriculations de voitures particulières en 2014



Source : CCFA

✎ Quel constructeur a vendu le plus de voitures en France en 2014 ?

.....

✎ Combien de voitures ont été vendues par les 3 premiers constructeurs (Renault, Peugeot, Citroën) ?

.....

✎ Combien Renault a-t-il vendu de voitures de plus que Peugeot ?

.....

✎ Combien Renault a-t-il vendu de voitures de plus que Nissan ?

.....

✎ Combien de voitures au total ont été vendues par ces 6 constructeurs en France ?

.....



Silence (2) – B. Friot

Elle a ouvert très grand la bouche et elle a mis la main sur son cœur. Et puis elle a fermé la bouche, ouvert la bouche, fermé la bouche... On a compris qu'elle allait étouffer. On a vite cherché un bocal et on l'a rempli d'eau. On a mis le bocal sur le bureau et la maîtresse a plongé dedans. Elle nageait furieusement dans l'eau et elle tournait à toute vitesse et en fermant la bouche. Ca faisait des bulles. On s'est remis au travail. J'ai fini mon exercice et puis j'ai écrit un texte. Une histoire de pirates. Ensuite, avec David, on a cherché un livre de renseignements sur Marco Polo. Et j'ai pensé : « Si elle reste encore un peu dans son bocal, j'aurai le temps de faire des mathématiques. Et peut-être, même d'écouter de la musique. »

👂 Lis le texte 3 fois à haute voix et chronomètre-toi.

👉 Écris les temps réalisés :

👉 Quelle réaction a eu la maîtresse lorsque le narrateur lui a demandé de se taire ?

.....
.....

👉 Qu'ont fait les élèves de la maîtresse ?

.....

👉 Que peuvent-ils faire désormais ?

.....

👉 Conjugue le verbe « finir » au passé composé. Pour t'aider : <https://huit.re/aidepc>

j'	NOUS
tu	VOUS
il/elle	ils/elles.....



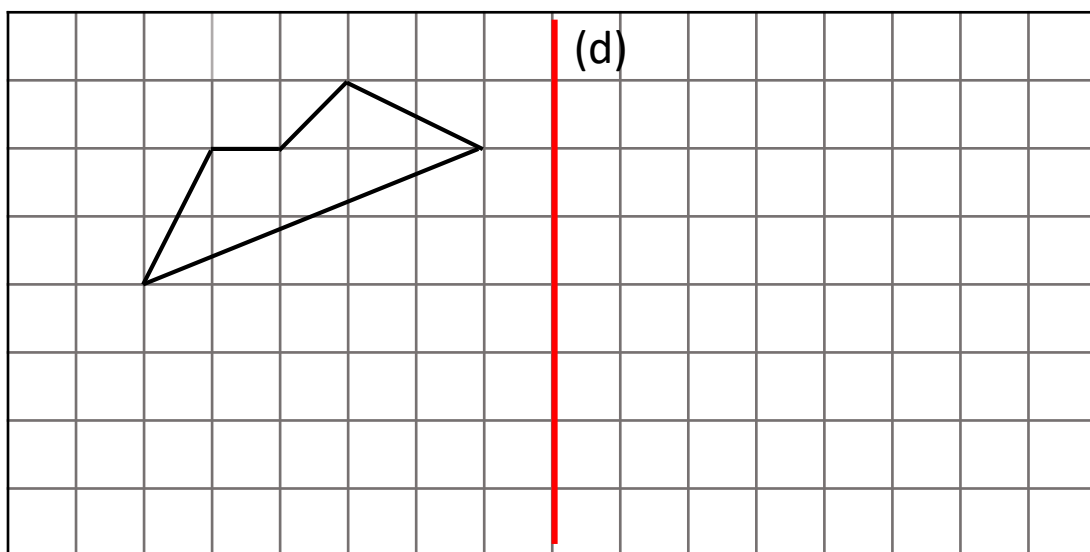
👁 Une famille de 2 adultes et de 3 enfants part une semaine en vacances. Le tarif de camping est de 4€ par jour pour les adultes et de 2 € par jour pour les enfants. À cela s'ajoute le tarif de l'emplacement pour la tente à 6 € par jour.

👉 Combien la famille va-t-elle payer pour la semaine ?

.....

.....

✎ Trace le symétrique de la figure par rapport à la droite (d).



👉 Le compte est bon !

Utilise chaque nombre une fois et les signes + et - et x .

9 4 5 10 pour faire 180

.....

👉 Convertis les mesures suivantes.

3 h ➡ min

70 min ➡ h

1h54 min ➡min

140 min ➡ ... h ... min

110 min ➡ ... h ... min

300 min ➡ ... h ... min

2h10 min ➡ min

1h27 min ➡ ... h ... min

2h31 min ➡ min



Compte – B. Friot

Je suis entré dans le salon. Ma mère lisait un magazine. Elle n’a pas levé les yeux, elle ne m’a pas regardé.

Je me suis dit : Je compte jusqu’à vingt. Si à vingt, elle ne m’a pas adressé la parole, je fais mon baluchon et je disparaissais pour toujours. Je le jure.

Un... deux... trois... quatre... cinq...

Je sais bien qu’elle ne m’aime pas.

Six... sept... huit ... neuf...

Si je n’existais pas, elle pourrait sortir, s’amuser, se remarier peut-être.

Dix... onze... douze... treize...

L’autre jour, j’ai entendu ce qu’elle disait à sa copine Annie. « J’ai beaucoup de soucis avec lui. » Voilà ce qu’elle a dit.

Quatorze... quinze... seize...

Ca fait des mois qu’elle ne m’a pas embrassé.

Dix-sept... dix-huit...

Cette nuit, elle a pleuré.


Dix-neuf... dix-neuf... dix-neuf...

Maman... maman...

Dix-neuf... vvv...

-Mais qu’est-ce que tu fais là ? File te coucher ! Et plus que ça, ou je te fiche une claque !


Il était temps... Merci, maman !

 Lis le texte 3 fois à haute voix et chronomètre-toi.

 Écris les temps réalisés :

 Qu’attend le narrateur lorsqu’il compte ?

.....

 Pourquoi dit-il « Merci maman » à la fin du texte ?

.....

.....

 T’est-il déjà arrivé de compter avant de prendre une décision ? Raconte pourquoi.

.....

.....

.....



MATHS

👁️ Stage en crèche

Lors d'un stage dans une crèche, la directrice te demande de remplir le bon de commande. Tu dois commander :

- 18 chaises en taille 0
- 1 meuble de 9 cases en hêtre
- une barrière de 8 lattes
- 4 lits « mousse »



HTE +EcoPE TTC€

Chaise				
Taille 00	+	LB07866D	20,99	0,11 25,32
Taille 0	+	LB07867A	20,99	0,10 25,31
Taille 1	+	LB07868R	20,99	0,11 25,32
À partir de 16, l'unité			19,49	0,11 23,52



Ⓒ Barrières à lattes

- 2 lattes : L/hors tout : 27,4 cm.
- 4 lattes : L/hors tout : 52,4 cm.
- 6 lattes : L/hors tout : 77,4 cm.
- 8 lattes : L/hors tout : 102,4 cm.

HTE TTC€

2 lattes	+	JS00665H	102	122,40
4 lattes	+	JS00664K	116	139,20
6 lattes	+	JS00663N	122	146,40
8 lattes	+	JS00662R	140	168



Ⓓ Meuble 9 cases

Côtés, dessus et tablette couleur hêtre, cloisons intérieures 3 coloris au choix ou tout hêtre. L/H/P d'un bac : 22 x 24 x 36 cm. L/H/P hors tout : 76 x 90 x 45 cm.

HTE +EcoPE TTC€

Hêtre	+	JS00527J	349	4,77 424,52
Couleur	+	JS00526M	366	4,77 444,92

Ⓐ Lit mousse

Empilables par 6

Pour enfants de plus de 2 ans. Couchage : 120 x 60 cm. Matelas préconisé ép. 10 cm maxi (non fourni). Mousse polyuréthane densité 24 kg/m³ revêtue d'une housse PVC expansé sur jersey 100% coton classé au feu M2, découpe ergonomique sur les côtés. Toile de fond. Déhoussable par fermetures à glissière et lavables à l'eau savonneuse et à l'éponge. Base anti dérapante. L/H/P hors tout : 140 x 25 x 80 cm. Livré monté.



HTE +EcoPE TTC€

+	LA01975K	171	0,21 205,45
À partir de 5, l'unité		161	0,21 193,45

☞ Complète le bon de commande.

- Information 1 : HT veut dire hors-taxes

Référence du produit	Prix à l'unité HT	Quantité souhaitée	Total HT
Total			

☞ Complète le chèque pour payer cette commande.

Credit Bank €

Payez contre ce chèque en euros €
non endossable sauf au profit d'une banque ou d'un établissement assésé

Somme en toute lettre

à €

Payable en France

CREDIT BANK
TEL 99-99-99-99-99
75
CHÉQUE N° 999999999

SOCIÉTÉ
ADRESSE
CP VILLE

à rédiger exclusivement en euros €

€

A
LE
Signature

14578 52545 8965 32322 (32)

999999 01002784 856231456

#18059873