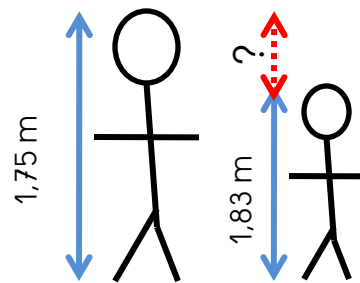
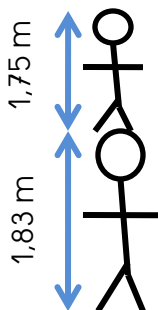
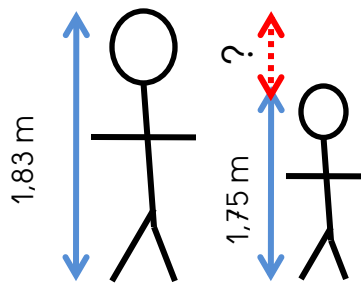
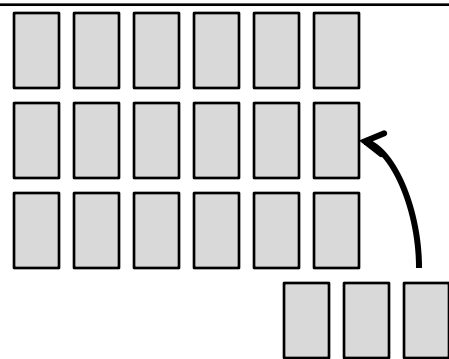
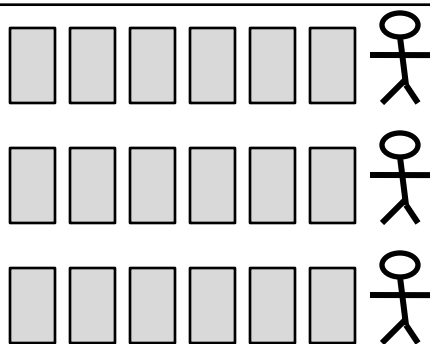
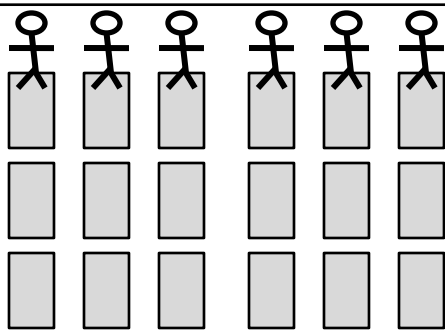


Etienne mesure 1,83 m et Valentin 1,75 m. Combien Etienne mesure-t-il de plus que Valentin ?

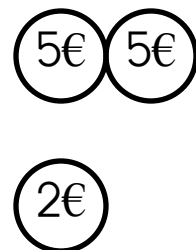
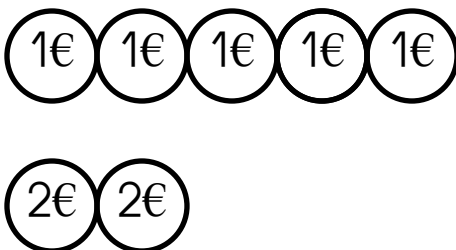
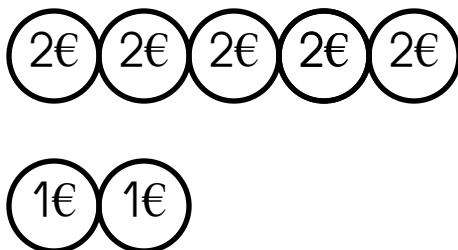


Mélanie a 18 cartes à distribuer entre 3 joueurs . Combien chaque joueur aura-t-il de cartes ?

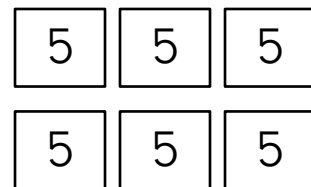
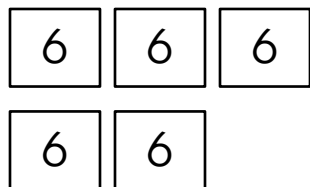


Un serveur compte ses pourboires à la fin de son service. Il a 5 pièces de 2€ et 2 pièces d'1 €.

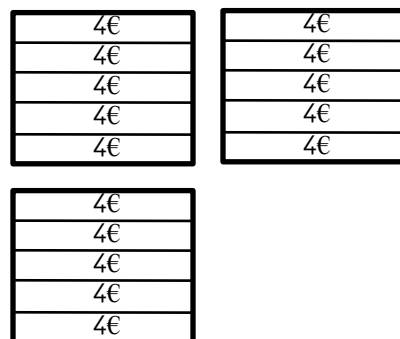
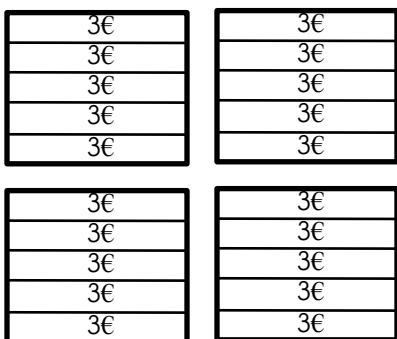
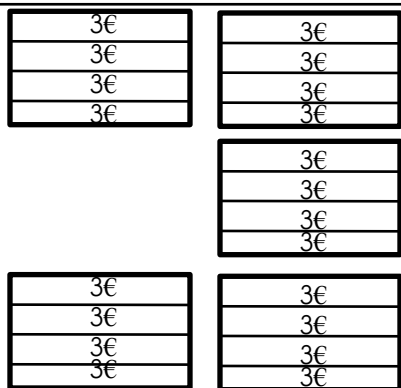
Combien a-t-il gagné?





Emma a du carrelage à poser. Elle a 6 paquets de 5 carreaux. Combien a-t-elle de carreaux ?



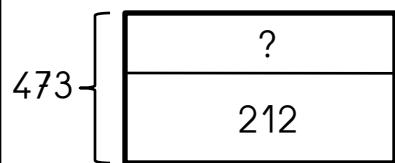

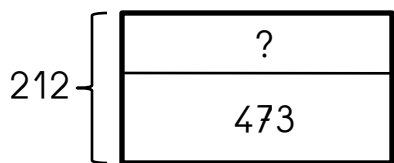
Un commerçant a vendu 5 cartons de 4 assiettes. Chaque assiette vaut 3€. Combien a-t-il gagné ?



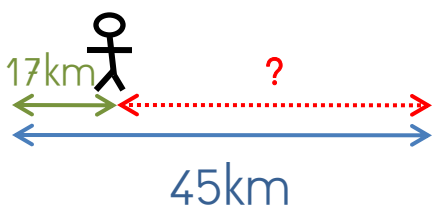
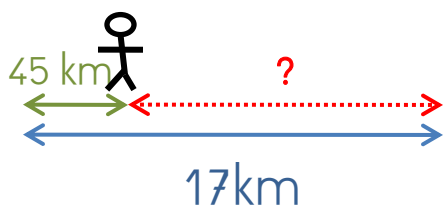
Dans une salle des fêtes, il y a 8 rangées de 11 sièges. Combien de personnes peut-on asseoir ?



Luc lit un livre de 473 pages. Il a déjà lu 212 pages.
Combien de pages lui reste-t-il à lire ?



Lucie va de Rouen à Neufchâtel. Elle a 45 km à parcourir. Elle en a déjà parcouru 17. Combien lui reste-t-il de km à parcourir ?



Un pâtissier a conçu 28 macarons. Il les vend par 7.
Combien de boîtes pourra-t-il remplir ?

