

Les aires urbaines françaises

Compétences évaluées

- G4.2. Placer et nommer les dix premières aires urbaines sur une carte
- G4.12. Comprendre la portée de l'aménagement du territoire et les débats qu'il peut susciter
- HG4.11. Réaliser des productions graphiques et cartographiques.

 Place le nom de chaque ville sur la carte à côté de chaque point.

en France



 Lis le texte et  réponds aux questions.

Document 1 – L'aménagement urbain dans la métropole lyonnaise

La politique d'aménagement urbain de la Métropole a l'ambition d'améliorer le cadre de vie des habitants et de contribuer au développement économique de l'agglomération. [...]

La politique de la ville consiste à concentrer et à articuler des moyens sur des sites prioritaires. [...] Les **Contrats Urbains de Cohésion Sociale (CUCS)** organisent la politique de la ville dans **63 quartiers** répartis sur 25 communes de la Métropole de Lyon. Ils combinent des actions visant à améliorer **l'accès à l'éducation et à l'emploi** pour les publics les plus éloignés, à promouvoir **l'accès aux droits** et le vivre ensemble à toutes les échelles.

La Métropole coordonne un programme d'agglomération de renouvellement urbain dont la première tranche a porté sur **12 sites pour 1,8 milliard d'euros de travaux**. Ces investissements cumulent des démolitions, des reconstructions, des créations d'équipements publics, des investissements privés.

Source : d'après le site internet du *Grand Lyon*

1) Relevez les deux objectifs de la politique d'aménagement urbain de la métropole de Lyon.

.....

.....

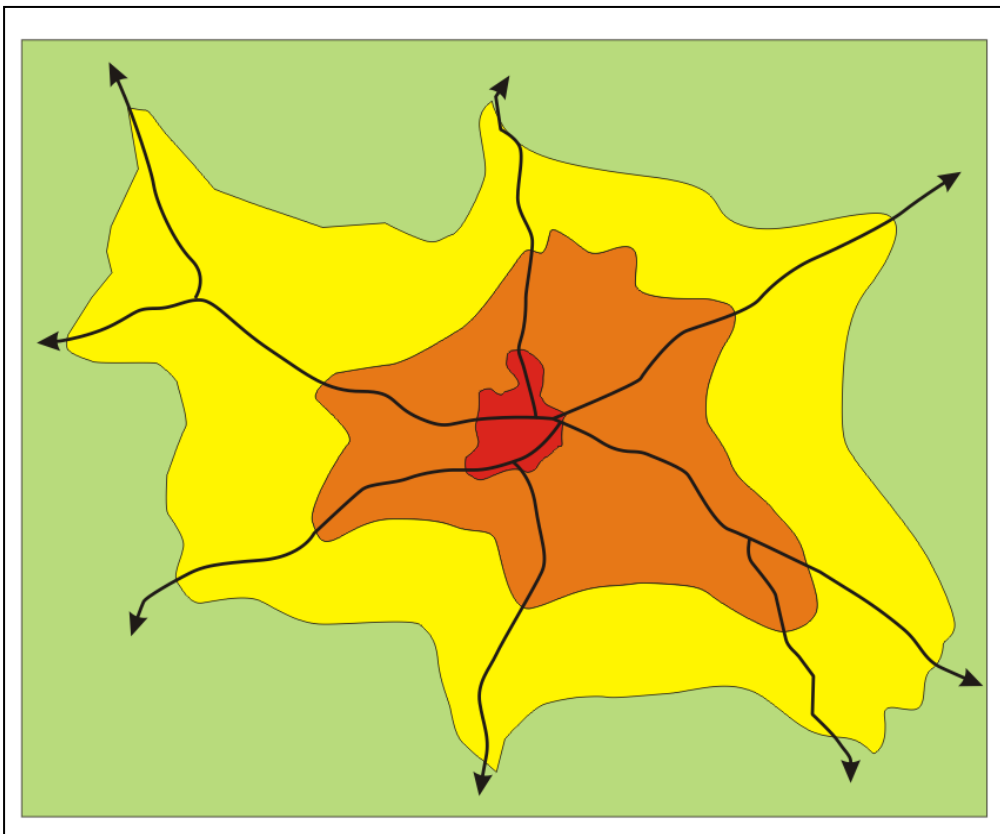
2) Identifiez les changements attendus pour les habitants de la métropole lyonnaise.





.....

.....

 Donne un titre et légende le schéma d'une aire urbaine.

Titre :



	<input type="text"/>	}	<input type="text"/>	}	<input type="text"/>
	<input type="text"/>				
	<input type="text"/>				
	<input type="text"/>				